

Batería de  
Pruebas de  
Razonamiento

# BPR

**BPR**  
Maila **1**



**BPR**  
Maila **2**



**BPR**  
Maila **3**



manual

manual

**BPR**  
Hoja de respuestas

Nombre y apellidos: \_\_\_\_\_ Nivel: **2-3**

Edad:  \_\_\_\_\_ Mujer  Varón  Curso: \_\_\_\_\_

Dr	Dv	Dp	Dn	Dm
1	1	1	10	1
2	2	2	11	2
3	3	3	12	3
4	4	4	13	4
5	5	5	14	5
6	6	6	15	6
7	7	7	16	7
8	8	8	17	8
9	9	9	18	9
10	10	10	19	10
11	11	11	20	11
12	12	12	21	12
13	13	13	22	13
14	14	14	23	14
15	15	15	24	15
16	16	16	25	16
17	17	17	26	17
18	18	18	27	18
19	19	19	28	19
20	20	20	29	20
21	21	21	30	21
22	22	22	31	22
23	23	23	32	23
24	24	24	33	24
25	25	25	34	25

Copyright © 2016 by TEA Ediciones, S.A.S.  
Todos los derechos reservados. Este compilar está impreso en BOS TINTO. Si se presenta otro en tinta negra es una reproducción ilegal.  
El beneficio de la producción y en el caso posible, del DISEÑO, Printed in Spain. Impreso en España.

www.teaediciones.com



A la vanguardia de la evaluación psicológica





# ¿Zer da BPR?

- Arrazonamendu orokorra eta zenbait berriazko arrazonameduak ebaluatzeko proba-andana (Arrazonamendu-Proba Andana).
- Adina: 9tik 18ra.
- 3 zailtasun-maila.
- Eskola-, klinika- eta forense-eremuetan erabiligarria.
- Gazteleraz eta euskaraz.



# ¿Zeintzuk dira mailak eta probak?


	<b>1. Maila:</b> L.H. 4tik 6ra (9 – 12 urte)	<b>2. Maila:</b> DBH 1etik 3ra (12 – 15 urte)	<b>3. Maila:</b> DBH 4tik Batxilergoko 2.mailara eta Zikloak (15 – 18 urte)
Arrazonamedu abstraktua (Ra)	✓	✓	✓
Hitzezko arrazonamendua (Rv)	✓	✓	✓
Arrazonamendu espaziala (Re)	-	✓*	✓*
Zenbakizko arrazonamendua (Rn)	✓	✓	✓
Arrazonamendu praktikoa (Rp)	✓	-	-
Arrazonamendu mekanikoa (Rm)	-	✓*	✓*
<b>Arrazonamendu orokorra (Rg)</b>	✓	✓	✓



# ¿Zer neurtzen du proba bakoitzak?

- Arrazonamendu abstraktua (Ra).
  - Eduki kurrikularren edo linguistiko-kulturalen eraginik gabeko gaitasun intelektuala.

MAILA  
1 2 3





# ¿Zer neurtzen du proba bakoitza?

- Hitzezko arrazonamendua (Rv)
  - Hitzzen arteko erlazioak sumatzeko (indukzioa) eta erlazio horiek eremu berrietara aplikatzeko (dedukzioa) gaitasuna. Adimen kristalizatuarekin lotuta (Gc), eskola- eta kultura- esperientzien eranginpean dago.

MAILA

1 2 3

EGUN eta GAU bezala dira EGUZKI eta...

A. ARGI

B. ENERGIA

C. ILARGI

D. SATELITE

E. PLANETA



# ¿ Zer neurtzen du proba bakoitzak?

- Zenbakizko arrazonamendua (Rn).
  - Zenbakien arteko erlazio logikoak sumatzeko eta aplikatzeko gaitasuna (erlazio kuantitatiboen oinarritzko arrazonamendua).

MAILA

1 2 3

A adb.

1

3

5

7

9

?

?



# ¿ Zer neurtzen du proba bakoitzak?

MAILA  
1

- Arrazoamendu praktikoa (Rp).
  - Arreta jartzea, ulertzea, organizatzea eta arrazoitzea eskatzen duten problemak ebazterakoan informazioa konplexua analizatzeko eta sintetizatzeko gaitasuna.

*Joana eta Paula bi lagun dira. Batak txakurra du eta besteak katua. Paularen lagun hoberena bere txakurra da.*

E1. Zein animalia du Joanak?

A. Txakurra

B. Katua

E2. Zein animalia du Paulak?

A. Txakurra

B. Katua












# ¿ Zer neurtzen du proba bakoitzak?

- Arrazonamendu espaziala (Re).
  - Mugimendua inferitzeko, espazio jakin batean formak aurreratzeko eta figuren biraketak eta segidak aurreratzeko gaitasuna.

MAILA  
2 3

A adb.

	→	
1		2
	→	
3		4

A  B  C  D  E 







# ¿ Zer neurtzen du proba bakoitzak?

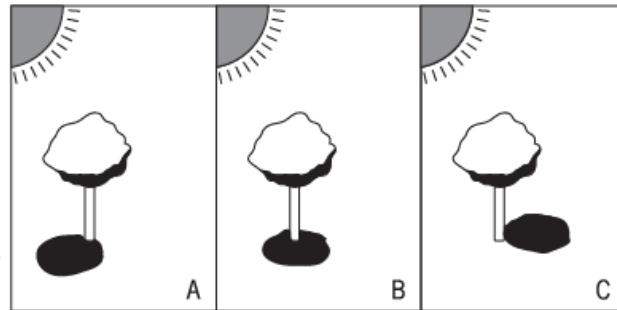
- Arrazonamendu mekanikoa (Rm).
  - Galdera bati erantzuterakoan beharrezko informazio deskriptiboa antolatzeko eta kodifikatzeko gaitasuna.

MAILA  
2 3

**B adb.**

Eguzkiaren posizioaren arabera, zein zuhaitzak (A, B, C) du hoberen marraztua bere itzala?

Hiru zuhaitzen itzalak ondo marraztuak badaude, adierazi D.





# Zuzenketa *online*

- TEAcorrige.com – en bitartez.
- Emaitzen profil grafikoak (puntuazio eraldatuak;  $M=100$  eta  $Dt=15$ )
- Proba bakoitzarentzako puntuazioak, eta arrazonomendu puntuazio orokorra.
- Baremoak mailaren eta sexuaren arabera.

**PROFILA**

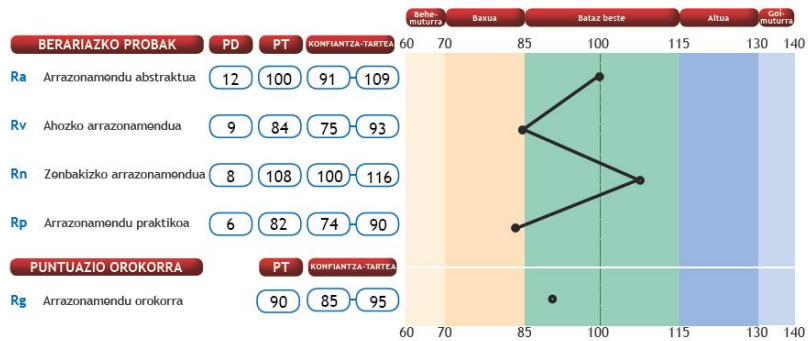
**BPR** Id: BPR01

Adina: 10 años Sexua: Mujer Aplikazio-data: 15/09/2016

Baremoa: 4.º Primaria (9 - 10 años), mujeres

Aplikazio-arduraduna:

**MAILA 1**



Oharra: PT, eraldatutako puntuazioa; batzbestekoa 100 eta desbideratze tipikoa 15.





## ¿Nola lortu daiteke Rg puntuazio osoa?

- **1. Maila** Proba guztiak egin behar dira (45 min. Gutxi-gorabehera).
- **2. eta 3. Mailak:** Ez dira proba guztiak egin behar; Aukerak:

	Denbora	1. Aukera	2. Aukera	3. Aukera	4. Aukera
A. abstraktua	5 min	✓	✓	✓	✓
Hitzezko A.	4 min	✓	✓	✓	✓
A. espaziala	9 min	✓	✓	x	x
Zenbakizko A.	10 min	✓	✓	✓	✓
A. Mekanikoa	8 min	✓	x	x	✓
¿RG?		BAI	BAI	BAI	EZ
Denbora(ggb)		55 min	40 min	30 min	



# Alde indartsuak

- Errendimendu akademikoarekin loturiko gaitasun nagusienak ebaluatzen ditu.
- Laburra da (gehienez 60 minutu).
- Puntuazio orokorra (Rg) lortzeko ez dira proba guztiak aplikatu behar.
- Mailak ditu (adinaren arabera moldatuta dago).
- Eskola-mailaren eta sexuaren araberako baremo eguneratuak ditu.